

Sreda, 22. 4.

SPOZNAVANJE OKOLJA – Preverjanje znanja

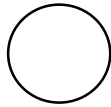
Najprej odpri zelen učbenik in preberi, kaj smo se naučili do sedaj (str.63 do str. 70).

Poskusi odgovoriti na spodnja vprašanja samostojno. Po končanem delu se oceni (tako kot v šoli). Starše prosi, če mi lahko tvoje odgovore pošljejo, da jih pregledam, popravim in tudi jaz ocenim 😊.Srečno!

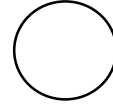
ŽIVIM ZDRAVO

MOJE ZNANJE JE:

JAZ



UČITELJICA



1. Kako skrbiš za okolje?

2. Kaj vse onesnažuje okolje?

3. Katere notranje dele telesa poznaš?


4. Kako skrbiš za svoje zdravje?

SLOVENŠČINA – Črka f

Danes je čas za novo črko. Najprej si oglej, kako jo pišemo.

<https://www.lilibi.si/solska-ulica/slovenscina/dezela-abc/pisane-crke/f/kako-napisemo-to-crko>

No, velika pisana črka F je podobna črki T, mala pisana f pa je prav posebna. To je največja črka, ker sega čez celo vrsto, kot velike tiskane črke, pa še navzdol, kot p, j in g. **Obe črki – F in f – zapišeš v dveh potezah.**



Sledi zapisu s prstom, napiši po zraku pisani F in f, napiši črki s prstom na mizo, na vrata in na svojo dlan. Pazi na poševne in navpične črte. Če imaš doma zdrob ali mivko, lahko napišeš črki tudi tako.

Ti gre? No, sedaj je na vrsti zvezek. Pazi, kje boš zapisal/a črko f. Če ne gre, prosi starše za pomoč.

Napiši dve vrsti male črke in dve vrsti velike črke. Kako je šlo?

Prepiši naslednji besedi trikrat:



Zapiši s pisanimi črkami v zvezek:

Banfi Flegar Petra Pernar Potočnik Žvegljč Šegatin Sulejmanović
Magerl Jovanović Garić Debeljak Bogdanović Begić

Oceni svoje delo – pod zapisane črke nariši »čebelčka«.

Na tej strani imaš tudi učni list, ki ga lahko rešiš (če imate doma tiskalnik).

<https://www.lilibi.si/solska-ulica/slovenscina/dezela-abc/pisane-crke/f>

MATEMATIKA - Tehtam

Ali imate doma osebno tehtnico. Vsi člani družine naj se tehtajo, ti pa zapiši njihove meritve – za vsakega člana na svoj listek. Ne pozabi pripisati **kg**.
Zdaj pa si oglej rezultate in povej kdo je najtežji/najlažji, kdo je težji/lažji od ..., kdo je težji od ... in hkrati lažji od ...

Reši naloge na strani 23. Ne pozabi na kratico kg v računih in odgovorih – saj veš – s pisanimi črkami.

Lahko rešiš še te naloge:

<https://www.lilibi.si/solska-ulica/matematika/merim/tehtanje>