

- Pozdravljeni!

Za začetek vam priporočam, da:

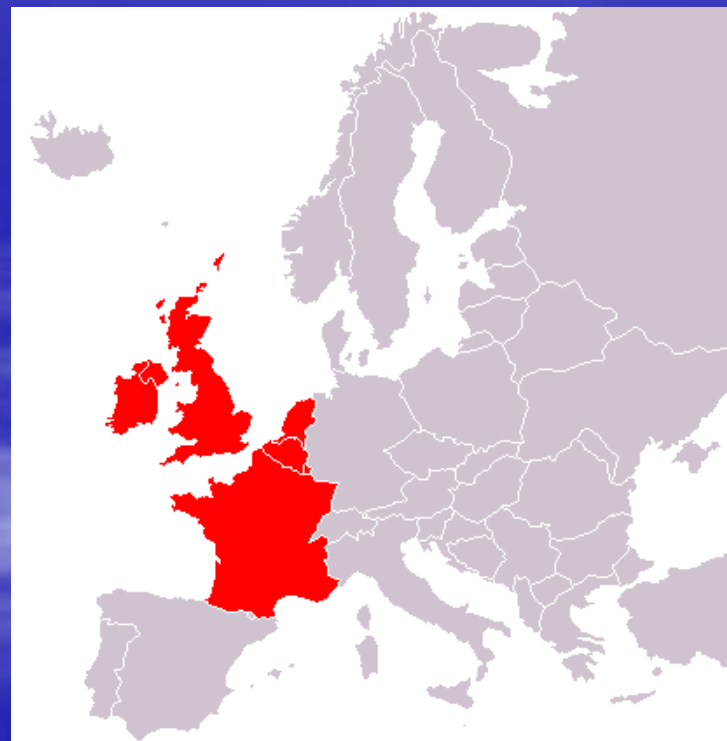
- Si vsak dan vzamete čas za naloge in učenje po vašemu urniku in se učite geografijo vsaj 2-krat tedensko eno uro
- Pripravite si vse, kar za geografijo potrebujete, da bo učenje potekalo brez prekinitev (zvezek, SDZ, atlas)
- V zvezke prepišite naslov, potem pa sledite navodilom na prosojnicah (v oklepajih), prepisujte zapiske v zvezek in jih po potrebi dopolnajte, berite besedilo v SDZ in rešujte naloge, odgovore na vprašanja pišite v zvezek
- Preden j boste prihodnjič nadaljevali z delom najprej ponovite prejšnjo snov in naredite naloge

ZAHODNA EVROPA

(SDZ str. 60 - 63, A 46, 48, 50)

1. LEGA

- Na zahodu Evrope.
- Ob Atlantskem oceanu.



(Vir: Modrijan založba)

2. DRŽAVE IN GLAVNA MESTA

a) Države in glavna mesta: (v atlasu poiščite državo in pripišite njeno glavno mesto)

FRANCIJA -

VELIKA BRITANIJA -

IRSKA -

BELGIJA -

NIZOZEMSKA -

LUKSEMBURG -

b) BENELUX je skupnost Belgije, Nizozemske in Luksemburga

3. DRUŽBENA UREDITEV

a) USTAVNA MONARHIJA:

https://sl.wikipedia.org/wiki/Ustavna_monarhija

- Velika Britanija
- Nizozemska
- Belgija
- Luksemburg

b) REPUBLIKA: (tudi Slovenija je republika, ima izvoljenega predsednika države)

- Francija
- Irska

4. POVRŠJE

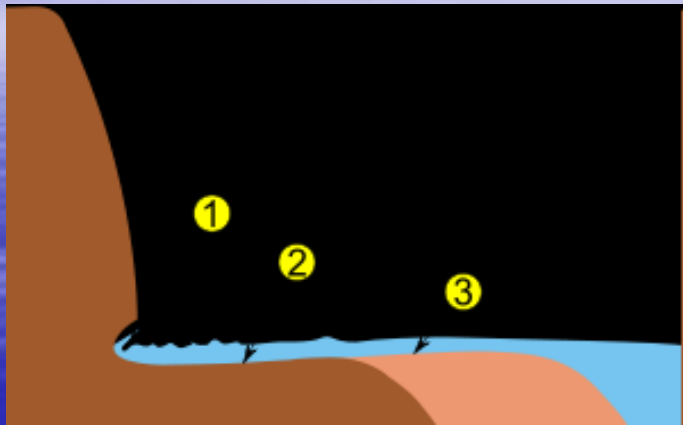
- a) Nižine in kotline (npr. Frizija, Flandrija, Bretanja, Normandija, Pariška kotlina)
- b) Stara grudasta gorovja (npr. Ardeni, Vogezi, Centralni masiv, Penini, Škotsko višavje)
- c) Mladonagubana gorovja (Alpe, Pireneji)

(Poiščite in pokažite posamezne pokrajine na zemljevidu!)

Poišči in poimenuj najvišji vrh v Zahodni Evropi!



č) LOČIMO DVA OSNOVNA TIPA OBAL:



1. Strme obale (klifi) (kliknite povezavo in potem na animacijo)

<https://eucbeniki.sio.si/geo1/2850/index3.html>

a) Nastajanje klifa:

- 1 Voda izpodkopava
- 2 Krušenje podlage
- 3 Nanos odkrušenih kamnin



Klifi Moher na Irskem (120 – 240 m)

http://www.o-4os.ce.edus.si/gradiva/geo/geomorfologija/reliefne_oblike_morska.html

Strunjanski klif(do 80 m)

<https://sl.wikipedia.org/wiki/Klif>

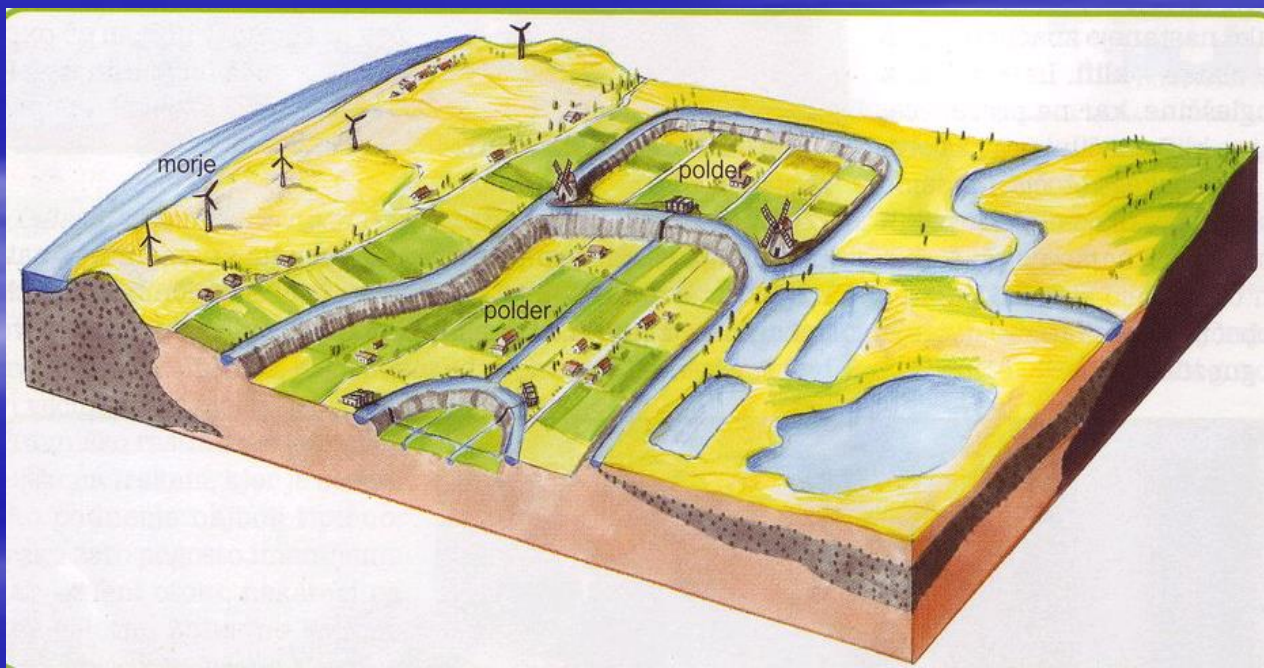
2. Nizke obale, kjer morski valovi odlagajo pesek ob obali.

Za obalno črto se pogosto dvigujejo nekaj metrov visoke peščene **sipine**. To je nakopičen pesek, ki ga je prinesel veter.



(vir tudi naslednja stran: Modrijan založba)

- d) Nizozemski **POLDERJI** sodijo med največastnejše človekove stvaritve
- začetki izsuševanja že v 13. stoletju
 - pridobijo nove površine za kmetijstvo
- (Njihove obale sestavljajo številni peščeni polotoki in otoki, za katerimi se raztezajo plitvi morski zalivi. Zalive z visokim nasipom ločijo od morja in s pomočjo vetrnih črpalk postopoma izčrpajo vodo. Nastalo površje je nižje od morske gladine(npr. -3m). Tako površje imenujemo **depresija**.)



e) PLIMOVANJE je na obalah Atlantika visoko in v ozkih zalivih lahko preseže 12 metrov. Mount St. Michael na severu Francije v Rokavskem prelivu je pol dneva kopno in pol dneva otok.

(Poiščite ga v A in pogledjte

https://www.youtube.com/watch?v=v0swR_nmYKA)



5. PODNEBJE

Največji vpliv na podnebje ima Severnoatlantski tok.
(Preberite SDZ str. 62 in 63, podčrtajte ključne besede)

Velik del Z. Evrope ima **OCEANSKO PODNEBJE:**

- poletja so topla
- zime mile (temperature ne padejo pod 0°C)
- majhna temperaturna nihanja
- velika vlažnost, oblačnost, pozimi megla
- padavine razporejene čez celo leto
- večje količine padavin ob gorskih pregradah

RASTLINSTVO

- Prevladuje bujno travniško rastlinstvo.
- Ponekod so se še ohranili listnati mešani gozdovi.

(Raziščite, kateri državi rečemo tudi Zeleni otok?)

DOMAČA NALOGA

V SDZ reši 1., 2. in 3. vajo

Pišite mi na vlasta.secnik-lipovec@guest.arnes.si če imate vprašanja, dileme ali potrebujete dodatna pojasnila.

Vsak teden bom nekaj učencev prosila za povratne informacije, zanima me:

- Ali so navodila razumljiva?

- Koliko časa ste porabili, da ste predelali snov?

V četrtek mi na to odgovorite Eva Bauer, Pia Bojkovski, Svit Čelik in Maya Fujs ter Kaja Gega, Aldin Holić, Laura Hribar in Vito Hvala v petek.

Uspešno učenje vam želim in lep pozdrav do prihodnjič.

Vlasta Lipovec